

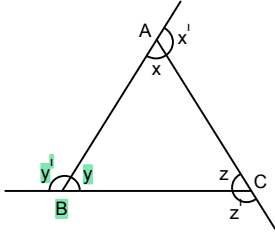
A geometric diagram featuring a central circle with a red outline. Four squares, also with red outlines, are attached to the top, bottom, left, and right sides of the circle. The top and bottom squares are positioned such that their bottom and top edges, respectively, are tangent to the circle. The left and right squares are positioned such that their right and left edges, respectively, are tangent to the circle. The entire composition is set against a light blue background.

Geometri Formülleri

matematikcimurat.com

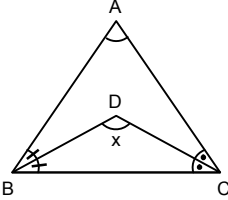
ÜÇGEN

ÜÇGENDE AÇI ÖZELLİKLERİ



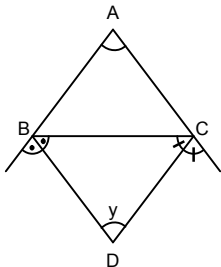
1. Üçgenin iç açıları ölçüleri toplamı 180° dir.
 $x + y + z = 180^\circ$
2. Üçgenin dış açıları ölçüleri toplamı 360° dir.
 $x' + y' + z' = 360^\circ$
3. Bir dış açının ölçüsü kendisine komşu olmayan iki iç açının ölçüleri toplamına eşittir.
 $x' = y + z$ $y' = x + z$ $z' = x + y$
4. İki açortayın kesişmesiyle oluşan açının ölçüsü

$$x = 90^\circ + \frac{m(\widehat{A})}{2} (\widehat{BDC}) \text{ (geniş açı)}$$



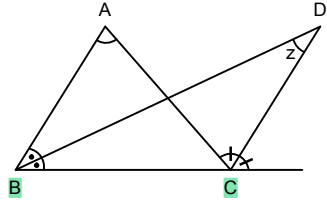
5. İki dış açortayın kesişmesiyle oluşan açının ölçüsü

$$y = 90^\circ + \frac{m(\widehat{A})}{2} (\widehat{BDC}) \text{ (dar açı)}$$



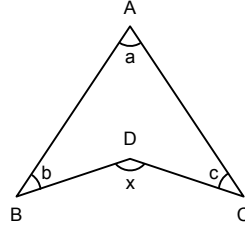
6. Bir iç açortay ile bir dış açortayın kesişmesiyle oluşan açının ölçüsü

$$z = \frac{m(\widehat{A})}{2}$$



7. Üçgenin bir kenarı içe büküldüğünde oluşan açının ölçüsü

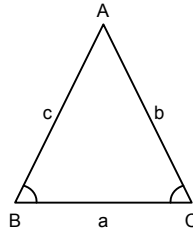
$$x = a + b + c$$



ÜÇGENDE AÇI-KENAR BAĞINTILARI

1. Bir üçgende açılar arasındaki sıralama ile bu açıların karşısındaki kenarlar arasındaki sıralama doğru orantılıdır.

$$m(\widehat{A}) \geq m(\widehat{B}) \geq m(\widehat{C}) \text{ ise } a \geq b \geq c \text{ dir.}$$



2. Bir üçgende herhangi bir kenarın uzunluğu, diğer iki kenarın uzunluğunu farkının mutlak değerinden büyük toplamlarından ise küçüktür.

$$|b - c| < a < b + c$$

$$|a - c| < b < a + c$$

$$|a - b| < c < a + b$$

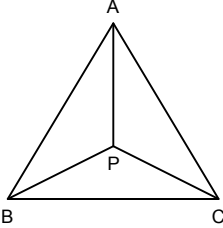
3. ABC üçgeninde

$\widehat{m(B)} > 90^\circ$ ise, $b^2 > a^2 + c^2$ dir.

$\widehat{m(B)} < 90^\circ$ ise, $b^2 < a^2 + c^2$ dir.

4. Bir üçgenin sınırladığı alan içindeki herhangi bir nokta ile köşeler birleştirildiğinde, ABC üçgeninin çevresi verilirse ve çevreye 2u denirse

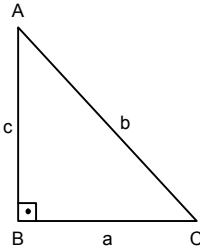
$$u < |PA| + |PB| + |PC| < 2u \text{ dur.}$$



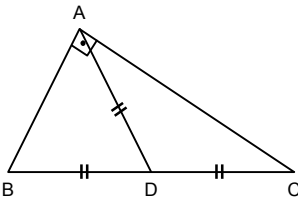
DİK ÜÇGEN

PİSAGOR BAĞINTISI

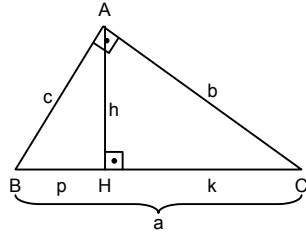
ABC dik üçgeninde [AC] kenarına **hipotenüs** denir ve $b^2 = a^2 + c^2$ dir.



Bir dik üçgende hipotenüse çizilen kenar-ortayın uzunluğu hipotenüs uzunluğunun yarısıdır.



ÖKLİD BAĞINTILARI



a) $h^2 = p \cdot k$

b) $b^2 = k \cdot a$

c) $c^2 = p \cdot a$

d) $A(\widehat{ABC}) = \frac{b \cdot c}{2} = \frac{a \cdot h}{2}$

İKİZKENAR ÜÇGEN

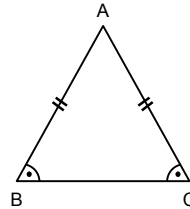
1. İki kenar uzunluğu eşit olan üçgenlere **ikizkenar üçgen** denir. Diğer kenara **taban** denir.

[BC]: Taban,

\widehat{B} ve \widehat{C} : Taban açıları,

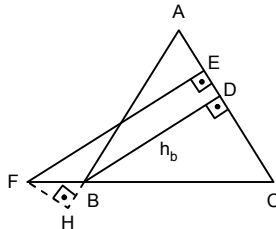
\widehat{A} : Tepe açısı

$$|AB| = |AC| \Leftrightarrow m(\widehat{B}) = m(\widehat{C})$$



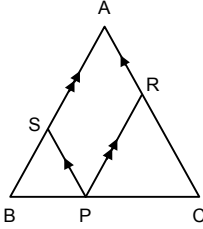
2. A, B ve H noktaları doğrusal F, B ve C noktaları doğrusal [FH] \perp [HB]

$$|AB| = |AC| \text{ ise, } |FE| - |FH| = h_b - h_c \text{ dir.}$$



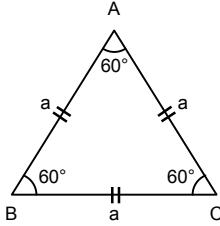
3. P herhangi bir nokta

$[PR] \parallel [AB]$, $[PS] \parallel [AC]$ ve $|AB| = |AC|$ olmak üzere $|PR| + |PS| = |AB| = |AC|$



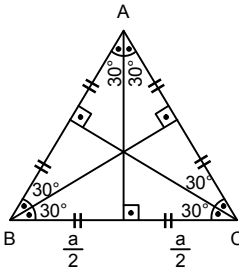
EŞKENAR ÜÇGEN

- Üç kenar uzunluğu da birbirine eşit olan üçgendir. İç açıları eşit ve 60 ar derecedir.



- Eşkenar üçgende yükseklik hem açıortay hem de kenarortaydır.

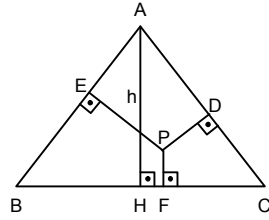
$$(h_a = h_b = h_c = V_a = V_b = V_c = n_A = n_B = n_C)$$



- Eşkenar üçgenin üzerinden veya içinden alınan herhangi bir noktadan kenarlara çizilen dikmelerin toplamı, eşkenar üçgenin yüksekliğine eşittir.

ABC eşkenar üçgen, $|AH| = h$

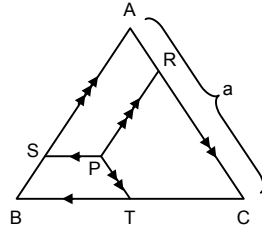
P, herhangi bir nokta $|PD| + |PF| + |PE| = h$



- Eşkenar üçgenin içinden alınan herhangi bir noktadan kenarlara çizilen paralellerin toplamı, eşkenar üçgenin bir kenar uzunluğuna eşittir.

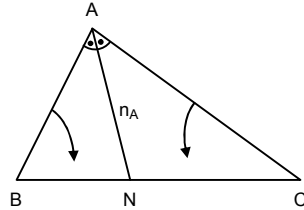
ABC eşkenar üçgen, P herhangi bir nokta ise

$$|PR| + |PS| + |PT| = a$$



ÜÇGENDE AÇIORTAY BAĞINTILARI

- ABC üçgeninde $[AN]$, iç açıortay olmak üzere (n_A)



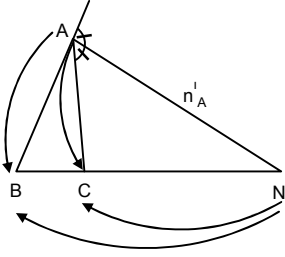
$$\frac{|AB|}{|AC|} = \frac{|BN|}{|NC|} = \frac{A(\widehat{ABN})}{A(\widehat{ANC})}$$

$$\text{ve } |AN|^2 = |AB| \cdot |AC| - |BN| \cdot |CN|$$

- ABC üçgeninde $[AN]$ dış açıortay olmak üzere,

$$\frac{|AC|}{|AB|} = \frac{|NC|}{|NB|}$$

$$|AN|^2 = |NC| \cdot |NB| - |AC| \cdot |AB| \text{ şeklindedir.}$$

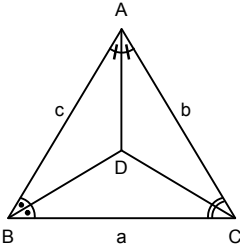


3. Bir üçgende iki dış açıortayı ile bir iç açıortayı bir noktada kesişir. Bu nokta üçgenin dış teğet çemberlerinden birinin merkezidir.

O, ABC üçgeninin dış teğet çemberlerinden birinin merkezidir.

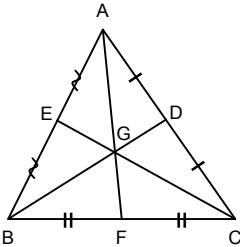
4. D, ABC üçgeninin iç teğet çemberinin merkezi ise,

$$\frac{A(\widehat{CDB})}{a} = \frac{A(\widehat{ADC})}{b} = \frac{A(\widehat{ABD})}{c} \text{ dir.}$$



ÜÇGENDE KENARORTAY BAĞINTILARI

1. Kenarortaylar bir noktada kesişirler. Bu nokta üçgenin ağırlık merkezidir.

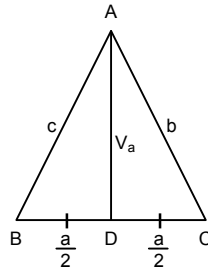


G, ağırlık merkezi olmak üzere,

$|AG| = 2|GF|$, $|BG| = 2|GD|$ ve

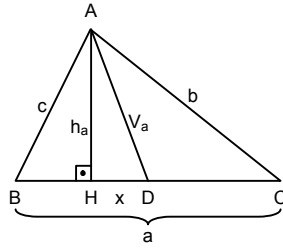
$|CG| = 2|GE|$ dir.

Kenarortay teoremi, $2 \cdot V_a^2 + \frac{a^2}{2} = b^2 + c^2$



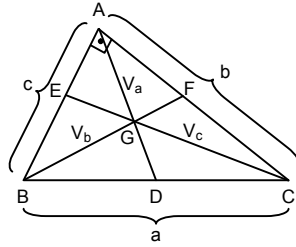
2. [AD] kenarortay, [AH] yükseklik,

$$|HD| = x \text{ ise, } \boxed{2 \cdot a \cdot x = |b^2 - c^2|} \text{ dir.}$$

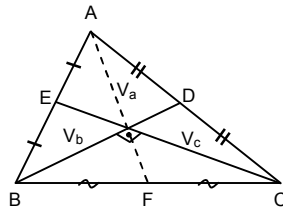


3. G, ABC üçgeninin ağırlık merkezi

$$m(\widehat{BAC}) = 90^\circ \text{ ise, } 5 \cdot V_a^2 = V_b^2 + V_c^2$$



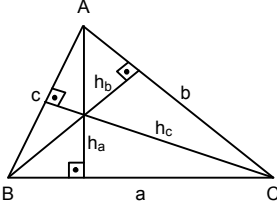
4. $[BD] \perp [CE] \Rightarrow V_a^2 = V_b^2 + V_c^2$



ÜÇGENDE ALAN

Yükseklik: Bir üçgende herhangi bir köşeden karşısındaki kenara (veya kenarın uzantısına) indirilen dikmeye denir.

$$A(\widehat{ABC}) = \frac{a \cdot h_a}{2} = \frac{b \cdot h_b}{2} = \frac{c \cdot h_c}{2}$$

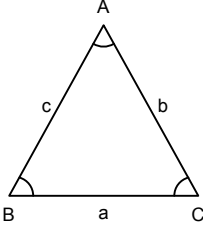


Herhangi İki Kenar ve Bu İki Kenar Arasındaki Açısı Verilen Üçgenin Alanı

$$A(\widehat{ABC}) = \frac{1}{2} b \cdot c \sin(\widehat{A})$$

$$A(\widehat{ABC}) = \frac{1}{2} a \cdot c \sin(\widehat{B})$$

$$A(\widehat{ABC}) = \frac{1}{2} a \cdot b \sin(\widehat{C})$$



Üç Kenar Uzunluğu Verilen Üçgenin Alanı

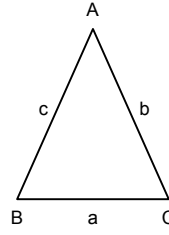
ABC üçgeninin çevresi

$\widehat{C(ABC)} = a + b + c$ olmak üzere,

$$u = \frac{a + b + c}{2} = \frac{\widehat{C(ABC)}}{2}$$

$$A(\widehat{ABC}) = \sqrt{u \cdot (u - a) \cdot (u - b) \cdot (u - c)}$$

şeklindedir.



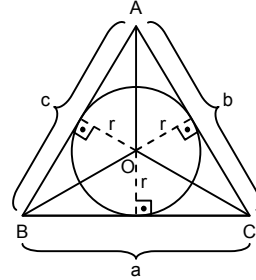
Çevresi ve İç Teğet Çemberinin Yarıçapı Verilen Üçgenin Alanı

O, iç teğet çemberinin merkezi r, çemberin yarıçapı ve

$$u = \frac{a + b + c}{2} \text{ olmak üzere}$$

$$A(\widehat{ABC}) = u \cdot r$$

şeklindedir.

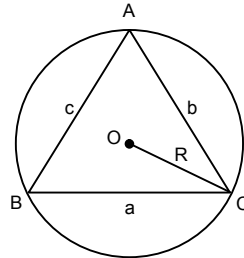


Çevresel Çemberin Yarıçapı ve Kenar Uzunlukları Verilen Üçgenin Alanı

$|OC| = R$ (çevrel çemberin yarıçapı)

$$A(\widehat{ABC}) = \frac{a \cdot b \cdot c}{4R}$$

şeklindedir.



**ÜÇGENDE ALAN İLE İLGİLİ
BAZI ÖZEL DURUMLAR**

1. Yükseklikleri eşit olan üçgenlerin alanları oranı ile tabanları oranı eşittir.

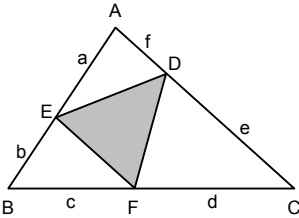
$d_1 \parallel d_2$ ise h , ABC ve DEF üçgenlerinin ortak yüksekliğidir.

$$\frac{A(\widehat{ABC})}{A(\widehat{DEF})} = \frac{a \cdot h}{d \cdot h} = \frac{a}{d}$$

2. Taban uzunlukları eşit olan üçgenlerin alanları oranı, (eşit olan tabanlara ait) yüksekliklerinin oranına eşittir.

$a = d$ ise $\frac{A(\widehat{ABC})}{A(\widehat{DEF})} = \frac{a \cdot h_a}{d \cdot h_d} = \frac{h_a}{h_d}$ olur.

3. $\frac{A(\widehat{ABC})}{A(\widehat{DEF})} = \frac{|AB| \cdot |AC| \cdot |BC|}{a \cdot c \cdot e + b \cdot d \cdot f}$ şeklindedir.

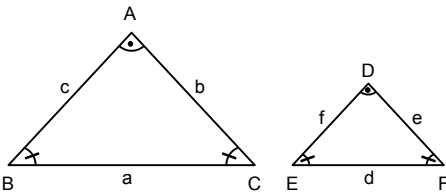


**BENZERLİK ORANI VE BENZER
ÜÇGENLERİN ALANLARI ORANI**

$\widehat{ABC} \sim \widehat{DEF}$ dir.

$$\frac{|AB|}{|DE|} = \frac{|BC|}{|EF|} = \frac{|AC|}{|DF|} = k \text{ oranına benzerlik}$$

oranı denir.



Benzerlik oranı:

$$\frac{|AB|}{|DE|} = \frac{|BC|}{|EF|} = \frac{|AC|}{|DF|} = \frac{h_a}{h_d} = \frac{h_b}{h_e} = \frac{h_c}{h_f} = k$$

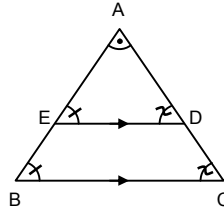
$$\frac{n_A}{n_D} = \frac{n_B}{n_E} = \frac{n_C}{n_F} = \frac{V_a}{V_d} = \frac{V_b}{V_e} = \frac{V_c}{V_f} = \frac{Ç(\widehat{ABC})}{Ç(\widehat{DEF})} = k$$

ve $\frac{A(\widehat{ABC})}{A(\widehat{DEF})} = k^2$

TEMEL BENZERLİK TEOREMİ

ABC üçgeninde $[ED] \parallel [BC]$

$$\frac{|AE|}{|AB|} = \frac{|AD|}{|AC|} = \frac{|ED|}{|BC|}$$

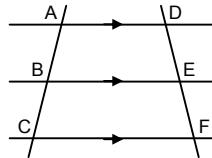


temel benzerlik teoremi denir.

THALES (TALES) TEOREMİ

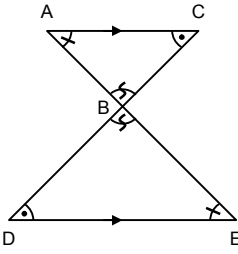
1. $[AD] \parallel [BE] \parallel [CF]$

$$\frac{|AB|}{|BC|} = \frac{|DE|}{|EF|} \text{ ve } \frac{|AB|}{|AC|} = \frac{|DE|}{|DF|} \text{ şeklindedir.}$$



2. $[AC] \parallel [DE]$ olmak üzere

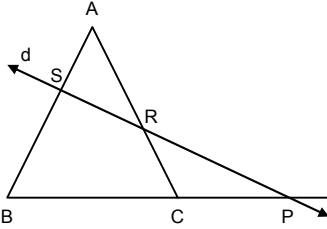
$$\frac{|AB|}{|BE|} = \frac{|CB|}{|BD|} = \frac{|AC|}{|DE|} \text{ şeklindedir.}$$



MENELAUS TEOREMİ

Şekildeki ABC üçgeninin BC kenarının uzantısı ile, [AB] ve [AC] ni kesen d doğrusu verildiğinde;

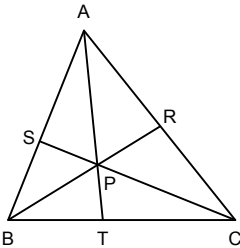
$$\frac{|PC|}{|PB|} \cdot \frac{|BS|}{|AS|} \cdot \frac{|AR|}{|CR|} = 1 \text{ olur.}$$



SEVA TEOREMİ

Şekildeki ABC üçgeninde,

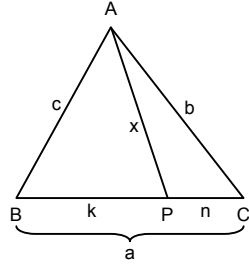
$$\frac{|AS|}{|BS|} \cdot \frac{|BT|}{|CT|} \cdot \frac{|CR|}{|AR|} = 1 \text{ şeklindedir.}$$



STEWART TEOREMİ

Şekildeki ABC üçgeninde a, b ve c kenar uzunlukları P, [BC] nın üzerinden alınan herhangi bir nokta olmak üzere,

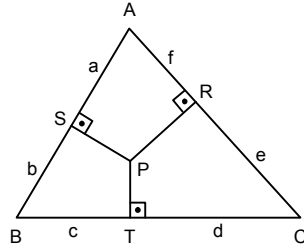
$$x^2 = \frac{b^2 \cdot m + c^2 \cdot n}{a} - m \cdot n \text{ şeklindedir.}$$



CARNOT TEOREMİ

P, herhangi bir nokta olmak üzere;

$$a^2 + c^2 + e^2 = b^2 + d^2 + f^2 \text{ şeklindedir.}$$



ÇOKGENLER

Konveks Çokgenin Özellikleri

n kenarlı bir konveks çokgenin;

1. İç açılarının ölçülerinin toplamı: $(n - 2) \cdot 180^\circ$ dir.
2. Dış açılarının ölçüleri toplamı 360° dir.
3. Bir köşesinden çizilen köşegenlerle çokgen, $(n - 2)$ tane üçgene ayrılır.
4. Bir köşesinden çizilen tüm köşegenlerin sayısı, $(n - 3)$ tür.
5. Bir çokgenin tüm köşegenlerinin sayısı; $\frac{n(n-3)}{2}$ dir.
6. Kenar sayısı n olan bir konveks çokgenin çizilebilmesi için $(2n - 3)$ tane elemanı bilinmelidir. Bu elemanların en az $(n - 2)$ tanesi uzunluk, en çok $(n - 1)$ tanesi açı olmalıdır.

DÜZGÜN ÇOKGENLER

Kenarları eşit uzunlukta ve iç açılarının ölçüleri eşit olan çokgene **düzgün çokgen** denir.

Düzgün Çokgenin Özellikleri

1. n kenarlı bir düzgün çokgenin bir dış açısının ölçüsü:

$$\frac{360^\circ}{n} \text{ dir.}$$

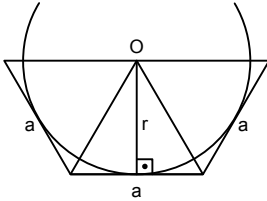
2. n kenarlı bir düzgün çokgenin bir iç açısının ölçüsü:

$$\frac{(n-2) \cdot 180^\circ}{n} \text{ veya } 180^\circ - \frac{360^\circ}{n} \text{ dir.}$$

Düzgün Çokgenin Alanı

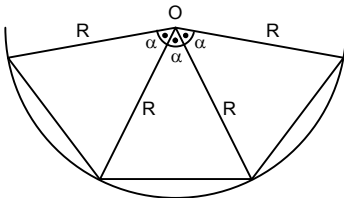
1. Bir kenarının uzunluğu a, iç teğet çemberinin yarıçapı r olan n kenarlı düzgün çokgenin alanı:

$$A = \frac{n \cdot a \cdot r}{2} \text{ dir.}$$



2. Çevrel çemberinin yarıçapı R olan n kenarlı düzgün çokgenin alanı

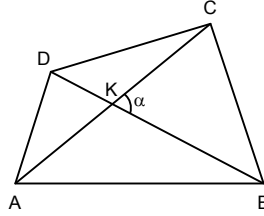
$$A = \frac{1}{2} \cdot n \cdot R^2 \cdot \sin \alpha \left(\alpha = \frac{360^\circ}{n} \right) \text{ dir.}$$



DÖRTGENLER

Konveks Dörtgenin Genel Özellikleri

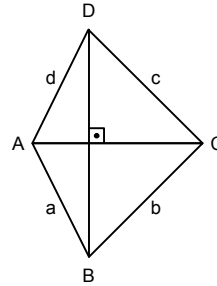
1. İç açılarının ölçüleri toplamı 360° dir.
2. $A(ABCD) = \frac{1}{2} \cdot |AC| \cdot |BD| \cdot \sin \alpha$ dir.



3. Köşegenleri dik kesişen bir dörtgende

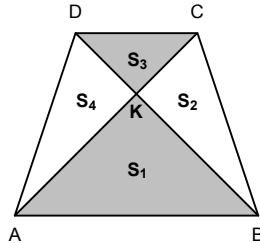
a) $a^2 + c^2 = b^2 + d^2$

b) $A(ABCD) = \frac{|AC| \cdot |BD|}{2}$



4. $[AC]$ ve $[BD]$ köşegen

$$S_1 \cdot S_3 = S_2 \cdot S_4 \text{ tür.}$$

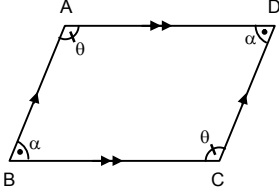


PARALELKENAR

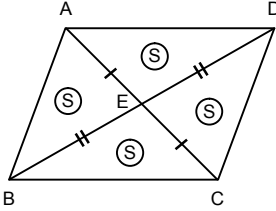
Karşılıklı kenarları paralel ve eşit olan dörtgene **paralelkenar** denir. Paralelkenarın karşılıklı açıları eşittir.

$[AB] \parallel [DC]$ ve $[AD] \parallel [BC]$ dir.

$\alpha + \theta = 180^\circ$ olur.



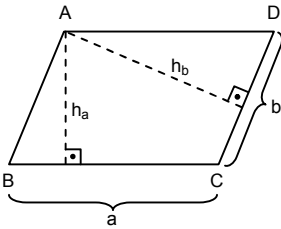
1. Köşegen uzunlukları, birbirlerini eşit iki parçaya bölerler. Alan dört eşit parçaya bölünür. E noktası paralelkenarın ağırlık merkezi veya simetri merkezidir.



2. Paralelkenarın a kenarına ait yüksekliği h_a ve b kenarına ait yüksekliği h_b olsun.

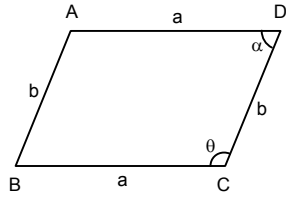
$h_a \neq h_b$ dir. Paralelkenarın alanı;

$$A(ABCD) = a \cdot h_a = b \cdot h_b$$



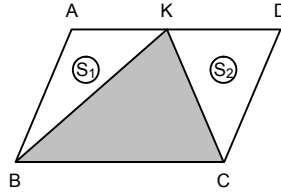
3. Paralelkenarın kenar uzunlukları ile bir açısı veriliyor ise alanı;

$$A(ABCD) = a \cdot b \sin \alpha = a \cdot b \cdot \sin \theta$$

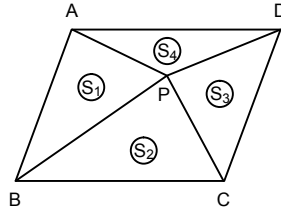


4. K, paralelkenarın üzerinde herhangi bir nokta ise $A(\widehat{BKC}) = S_1 + S_2$ ve

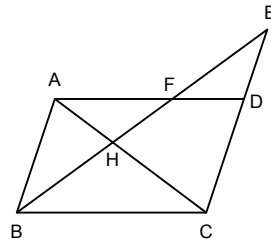
$$A(ABCD) = 2 \cdot A(\widehat{BKC}) \text{ dir.}$$



5. P, paralelkenarın içerisinde herhangi bir nokta ise $S_1 + S_3 = S_2 + S_4$



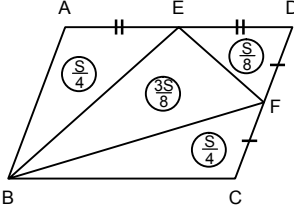
6. B, H, F, E noktaları ve E, D, C noktaları doğrusal ise $|BH|^2 = |HF| \cdot |HE|$



7. $A(ABCD) = S$ ise $A(\widehat{BEF}) = \frac{3}{8} \cdot S$

$A(\widehat{ABE}) = A(\widehat{BCF}) = \frac{1}{4} \cdot S$

$A(\widehat{DEF}) = \frac{1}{8} \cdot S$ olur.

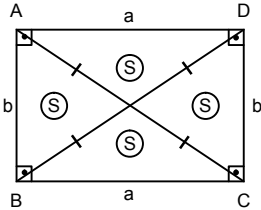


DİKDÖRTGEN

Köşe açılarının ölçüleri 90° dir. Karşılıklı kenarları ve köşegen uzunlukları eşittir.

1. Köşegenler alanı dört eşit parçaya böler.

Köşegenler birbirini ortalar.

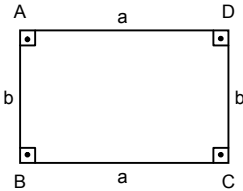


2. Dikdörtgenin çevresi,

$\Ç(ABCD) = 2 \cdot (a + b)$

Dikdörtgenin alanı,

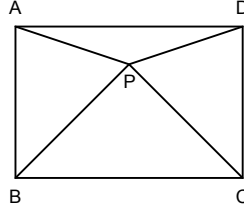
$A(ABCD) = a \cdot b$ şeklindedir.



3. P, herhangi bir nokta olmak üzere P yi köşelerle birleştirdiğimizde;

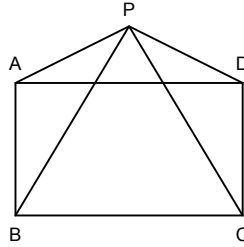
$|AP|^2 + |CP|^2 = |BF|^2 + |DP|^2$ ve

$A(\widehat{APD}) + A(\widehat{BPC}) = A(\widehat{APB}) + A(\widehat{CPD})$ şeklindedir.



4. P, dikdörtgenin dışında herhangi bir nokta olmak üzere P yi köşelerle birleştirdiğimizde;

$|AP|^2 + |CP|^2 = |BP|^2 + |DP|^2$ şeklindedir.



KARE

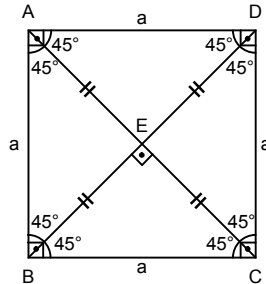
Köşegenleri dik kesişen ve köşegenleri açığıortay olan dikdörtgene **kare** denir.

Dikdörtgenin özellikleri kare için de geçerlidir.

ABCD karesinde $|AC| = |BD| = a\sqrt{2}$ dir.

$A(ABCD) = a \cdot a = a^2$ ve

$A(ABCD) = \frac{|AC| \cdot |BD|}{2}$

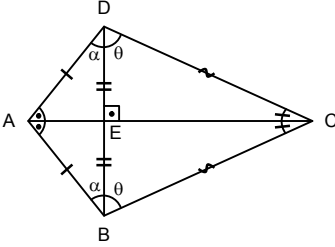


DELTOİD

Taban uzunlukları ortak iki ikizkenar üçgenden oluşan şekle **deltoid** denir. Tepe açılarını birleştiren köşegen açıortaydır. Ayrıca diğer köşegenin uzunluğunu dik ortalar.

$$m(\widehat{ADC}) = m(\widehat{ABC}) \text{ ve}$$

$$A(ABCD) = \frac{|AC| \cdot |BD|}{2}$$

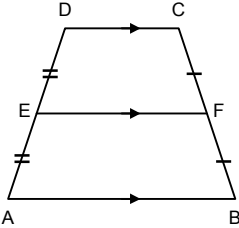


YAMUK

İki kenarı birbirine paralel olan dörtgene **yamuk** denir.

Paralel olan kenarlara **yamuğun tabanları**, diğer kenarlara yamuğun **yan kenarları** denir. [AD] nin orta noktası E, [BC] nin orta noktası F ise [EF] na **orta taban** denir ve

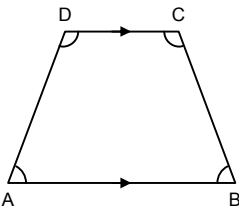
$$[EF] \parallel [AB] \parallel [CD] \text{ dir.}$$



Özellikler

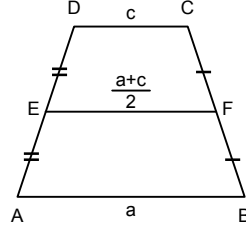
- [AB] // [DC],

$$m(\widehat{A}) + m(\widehat{D}) = m(\widehat{B}) + m(\widehat{C}) = 180^\circ \text{ dir.}$$



- [EF] orta taban,

$$|AB| = a, |CD| = c \text{ ise } |EF| = \frac{a+c}{2} \text{ dir.}$$



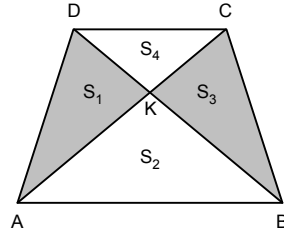
- ABCD yamuğunda [AC] ve [DB] köşegen

$$A(\widehat{KAD}) = S_1, A(\widehat{KAB}) = S_2$$

$$A(\widehat{KBC}) = S_3, A(\widehat{KCD}) = S_4 \text{ ise}$$

$$S_1 = S_3 \text{ ve } S_1 = \sqrt{S_2 \cdot S_4} \text{ tür.}$$

$$A(ABCD) = (\sqrt{S_2} + \sqrt{S_4})^2 \text{ dir.}$$



YAMUĞUN ALANI

ABCD yamuk, [KH] ⊥ [AB],

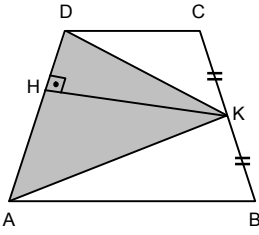
$$|AB| = a, |DC| = c, |KH| = h \text{ ise}$$

$$\text{Alan}(ABCD) = \left(\frac{a+c}{2} \right) \cdot h$$

- ABCD yamuk,

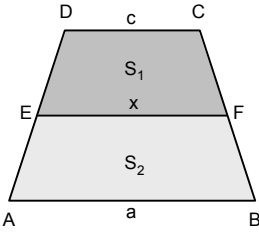
$$|KC| = |KB| \text{ ise } A(\widehat{AKD}) = \frac{A(ABCD)}{2} \text{ ve}$$

$$A(ABCD) = |KH| \cdot |AD| \text{ dir.}$$



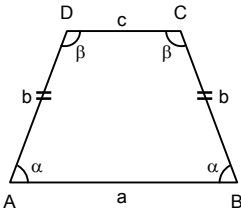
- ◆ ABCD yamuk, $[EF] \parallel [AB]$,
 $|EF| = x$, $A(EDCF) = S_1$, $A(AEKB) = S_2$ ve

$$S_1 = S_2 \text{ ise } x = \sqrt{\frac{a^2 + c^2}{2}} \text{ dir.}$$



İKİZKENAR YAMUK

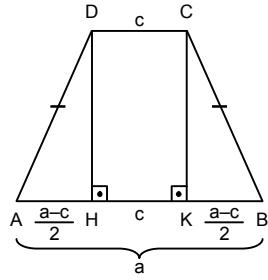
Paralel olmayan kenarları eşit uzunlukta olan yamuğa **ikizkenar yamuk** denir.



Özellikler

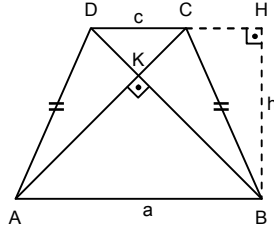
1. Taban açıları eşittir.
 $m(\widehat{A}) = m(\widehat{B}) = \alpha$, $m(\widehat{C}) = m(\widehat{D}) = \beta$ dir.
2. Köşegenleri eşit uzunluktadır.
3. $[DH] \perp [AB]$, $[CK] \perp [AB]$

$$|AH| = |KB| = \left| \frac{a-c}{2} \right|$$



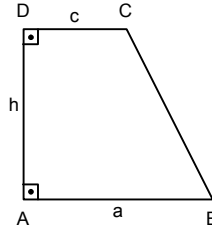
4. ABCD ikizkenar yamuk, $[AC] \perp [BD]$ ve yamuğun yüksekliği ise

$$h = \frac{a+c}{2} \text{ ve } A(ABCD) = h^2 \text{ dir.}$$

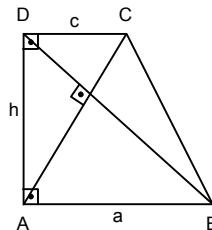


DİK YAMUK

Yan kenarlarından biri tabanlara dik olan yamuğa **dik yamuk** denir.



- ◆ Bir dik yamukta köşegenler dik kesişiyorsa $h = \sqrt{a \cdot c}$ dir.



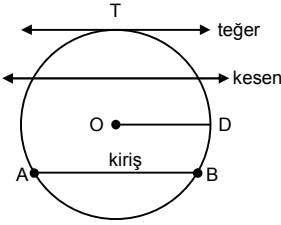
ÇEMBER

Teğet : Çember ile bir ortak noktası olan doğruya **teğet** denir.

Kesen : Çember ile iki ortak noktası olan doğruya **kesen** denir.

Kiriş : İki ucu da çember üzerinde olan doğru parçasına **kiriş** denir. Merkezden geçen kirişe **çap** denir. En büyük kiriş çaptır.

Yay : Çember üzerindeki iki nokta arasında kalan parçaya **yay** denir.



AB yayı, \widehat{AB} şeklinde gösterilir.

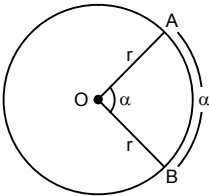
AB yayının ölçüsü ise $m(\widehat{AB})$ şeklinde gösterilir.

ÇEMBERDE AÇI, TEĞET, KIRIŞ, KESEN ÖZELLİKLERİ

1. Merkez Açı

İki yarıçapın oluşturduğu açığa **merkez açı** denir.

Merkez açının ölçüsü gördüğü yayın ölçüsüne eşittir.

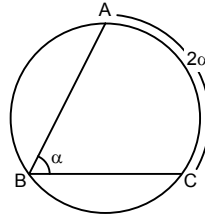


$$m(\widehat{AB}) = m(\widehat{AOB}) = \alpha$$

2. Çevre Açısı

Bir ucu ortak olan iki kiriş arasındaki açığa **çevre açısı** denir.

Çevre açısı gördüğü yayın yarısına eşittir.

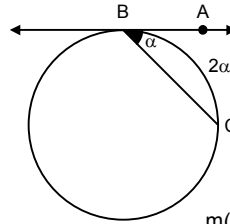


$$m(\widehat{AC}) = 2 \cdot m(\widehat{ABC}) = 2\alpha$$

3. Teğet-Kiriş Açısı

Çember üzerinde teğet ile kirişin oluşturduğu açığa **teğet-kiriş açısı** denir.

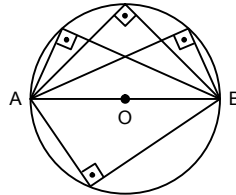
Teğet-kiriş açısının ölçüsü gördüğü yayın yarısına eşittir.



$$m(\widehat{BC}) = 2 \cdot m(\widehat{ABC}) = 2\alpha$$

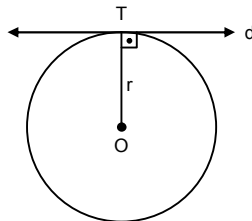
4. Çapı Gören Çevre Açısı

Çapı gören çevre açısının ölçüsü 90° dir.



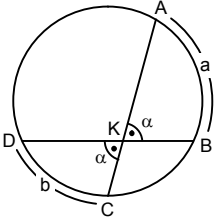
5. Merkezle teğetin değme noktasını birleştiren yarıçap, teğete diktir.

T, teğet noktası ise $d \perp [TO]$



6. Çemberin sınırladığı alan içerisinde kesişen iki kirişin oluşturduğu açı

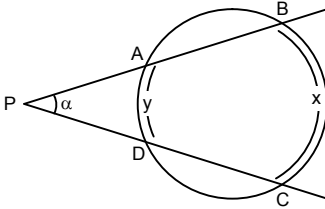
$$\alpha = \frac{m(\widehat{AB}) + m(\widehat{CD})}{2} = \frac{a + b}{2}$$



7. Çemberin sınırladığı alan dışında kesişen iki kesenin oluşturduğu açı

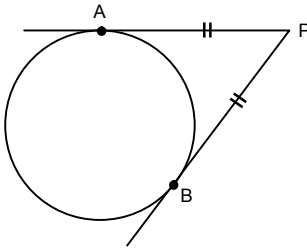
$$m(\widehat{BPC}) = \frac{m(\widehat{BC}) - m(\widehat{AD})}{2}$$

$$\alpha = \frac{x - y}{2} \text{ şeklindedir.}$$



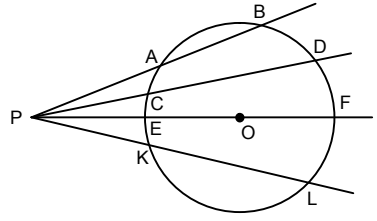
ÇEMBERDE UZUNLUK

1. Çembere dışındaki bir P noktasından iki tane teğet çizilirse bu uzunlukları birbirine eşittir.



[PA ve [PB teğet $|PA| = |PB|$ şeklindedir.

2. Çemberin dışındaki bir noktadan çembere sonsuz sayıda kesen çizilir.



Bu kesenler arasındaki bağıntı;

P, çemberin dışındaki bir nokta olduğuna göre

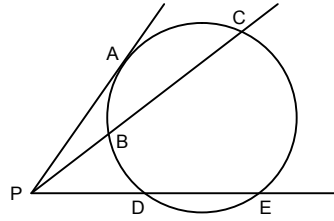
$$|PA| \cdot |PB| = |PC| \cdot |PD| = |PE| \cdot |PF| = \dots$$

şeklindedir.

3. Noktanın çembere göre kuvveti alındığında;

A, teğet noktası olmak üzere

$$|PA|^2 = |PB| \cdot |PC| = |PD| \cdot |PE| \text{ şeklindedir.}$$



4. Çemberin içindeki bir P noktasından sonsuz sayıda kiriş çizilir. P noktasının bu kirişlerden ayırdığı parçaların uzunlukları çarpımı eşittir.

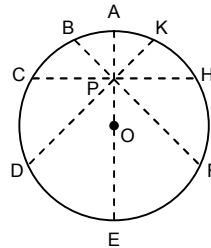
$$|PA| \cdot |PE| = |PB| \cdot |PF| = |PC| \cdot |PH| =$$

$$|PD| \cdot |PK| = \dots \text{ şeklindedir.}$$

P noktasının çembere göre kuvveti;

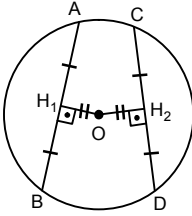
$$\text{Kuvvet} = |PA| \cdot |PE| = |PB| \cdot |PF| = \dots$$

şeklindedir.



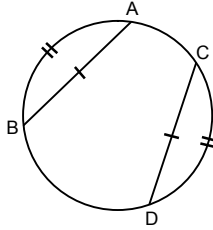
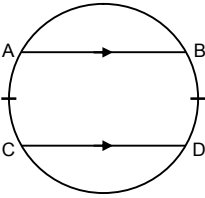
5. Merkezden, uzunlukları eşit olan kirişlere çizilen dikmelerin uzunlukları birbirine eşittir.

$|AB| = |CD|$ ise $|AH_1| = |BH_1| = |CH_2| = |DH_2|$
ve $|OH_1| = |OH_2|$ şeklindedir.



6. $[AB] \parallel [CD]$ ise $|\widehat{AC}| = |\widehat{BD}|$ dir.

$|AB| = |CD|$ ise $|\widehat{AB}| = |\widehat{CD}|$



DAİRENİN ALANI VE ÇEVRESİ

1. Bir çember ve çemberin iç bölgesini oluşturan noktaların kümesinin oluşturduğu şekle **daire** denir.

Dairenin alanı $= \pi \cdot r^2$

$$A(\text{AOB})_{\text{Daire dilimi}} = \frac{\pi \cdot r^2 \cdot \alpha}{360^\circ} = \frac{|\widehat{AB}| \cdot r}{2}$$

2. Çemberin çevre uzunluğu $= 2 \cdot \pi \cdot r$

$$\text{AB yayının uzunluğu} \quad |\widehat{AB}| = \frac{2 \cdot \pi \cdot r \cdot \alpha}{360^\circ}$$

şeklindedir.